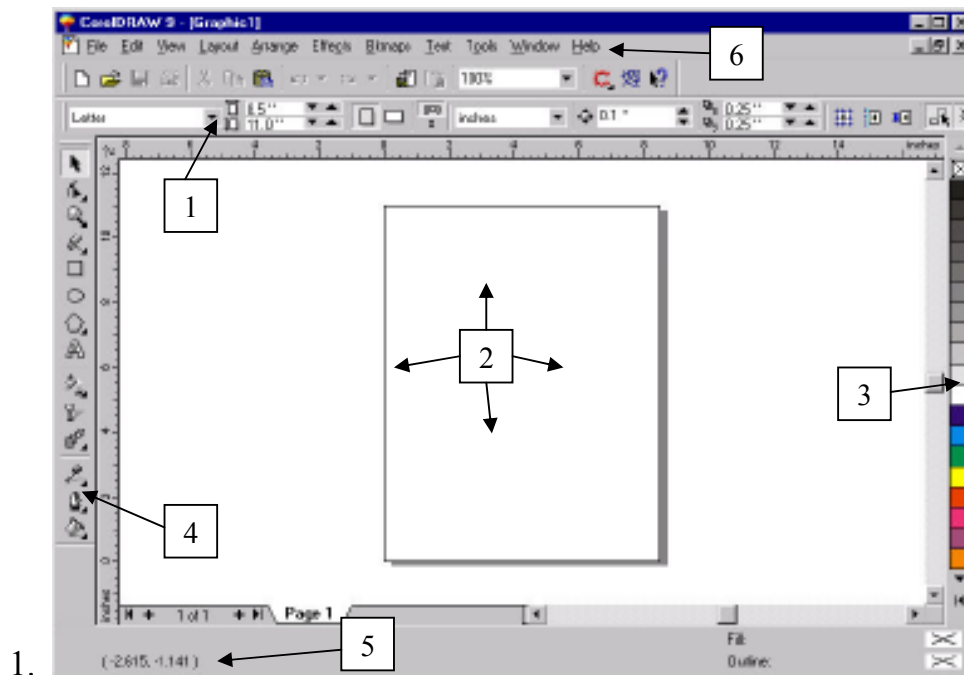


Pitanja za kolokvijum iz predmeta Alati grafičkog dizajna

(20.04.2015-ponedeljak u 12h u učionici koja bude slobodna u tom terminu...

Popravnog neće biti, svaki NE izlatak će se smatrati 0 br. poena koji kasnije

ulaze u poene za konačnu ocenu)



1.

Pored broja napisati (na srpskom) nazive pojedinih delova ekrana (radnog okruženja Corel-a):

- 1.
 - 2.
 - 3.
 - 4.
 - 5.
 - 6.
-
2. Kako se vrši bojenje tela-ispune a kako konture objekata?
 3. Kako se vrši zumiranje?
 4. Kako se vrši podešavanje redosleda objekata?
 5. Kako se vrši poravnanje objekata?

6. Koja su dva osnovna nacina predstavljanja crteza?
7. Corel crteži pripadaju _____ grafici.
8. Višestruka selekcija se vrši jednostrukim klikom i pritiskom tastera _____ na tastaturi.
9. Prečica za dupliciranje objekata je _____
10. Na slici sa strane (paleta sa alatima) obeležiti alat koji služi za bojenje objekta nekim prelazom. (obeležiti pored alata brojem pitanja)
11. Na slici sa strane (paleta sa alatima) obeležiti alat koji služi za uzimanje uzorka boje. (obeležiti pored alata brojem pitanja)
12. Na slici sa strane (paleta sa alatima) obeležiti alat kojim možete nacrtati pravu liniju. (obeležiti pored alata brojem pitanja)
13. Na slici sa strane (paleta sa alatima) obeležiti alat kojim možete nacrtati krivu liniju – slobodnom rukom. (obeležiti pored alata brojem pitanja)
14. Na slici sa strane (paleta sa alatima) obeležiti alat kojim možete nacrtati zvezdu. (obeležiti pored alata brojem pitanja)
15. Na slici sa strane (paleta sa alatima) obeležiti alat kojim možete nacrtati savrsen krug. (obeležiti pored alata brojem pitanja)
16. Na slici sa strane (paleta sa alatima) obeležiti alat kojim možete nacrtati elipsu. (obeležiti pored alata brojem pitanja)



17. Na slici sa strane (paleta sa alatima) obeležiti alat kojim možete neki objekat (trougao npr.) pretvoriti u laticu cveta. (obeležiti pored alata brojem pitanja)

18. Za šta služi alat koji je drugi po redu u paleti?


19. Kako se vrši grupisanje objekata-postupak?

20. Kako se vrši REgrupisanje objekata-postupak?



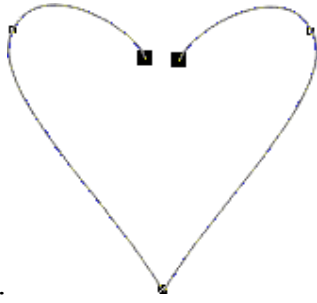
21.

Navesti nazive podmenija (svakog „dugmenceta“) sa slike.



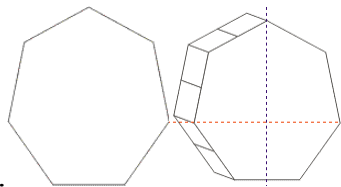
22.

Objasniti u par rečenica postupak kako je nacrtana ova šahovska tabla...



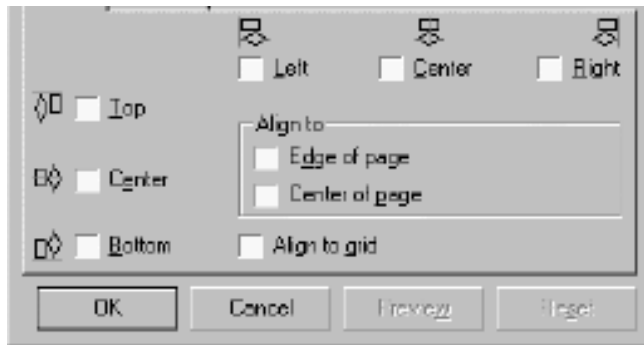
23.

Objasniti postupak bojenja ispune objekta sa slike...



24.

Kako se zove opcija kojoj objekat levo mozemo pretvoriti u objekat sa desne strane?

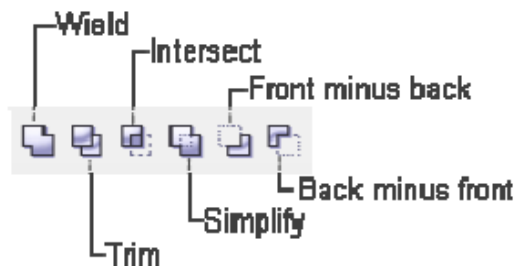


25.

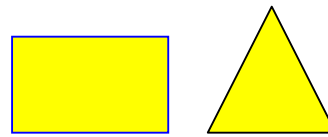
Opcija sa slike se zove _____?

26. Opcija Extrude služi za

27. Nacrtati dva objekta (trougao i četvorougao sa slike-desno) kako će izgledati nakon primene opcija sa slike (levo) ...



opcije



objekti

1. Intersect

2. Back minus front

3. Weld

4. Front minus back

5. Simplify

6. Trim